

# さんすう

なまえ

## もんだい1 ★

$$8 - 2 = \square$$



のこりのかずはいくつかな？

$$\textcircled{3} - 2 = \square$$

$$\square + \textcircled{5} = \square$$

## もんだい2 ★★

$$6 - 3 = \square$$



$$\textcircled{5} - 3 = \square$$


$$\square + \textcircled{1} = \square$$

のこりのかずはいくつかな？

1のくらい

## もんだい3 ★★


$$18 - 4 = \square$$



10のくらい

$$\textcircled{8} - 4 = \square$$

1のくらい



できたらすごい



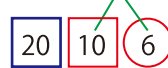
## むずかしいもんだい

$$36 - 9 = \square$$

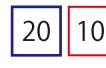


36は20と10と6にわけよ

1のくらいのかずはいくつかな？



$$\textcircled{10} - 9 = \textcircled{\phantom{0}}$$



10だけわりよ

$$\textcircled{6} + \textcircled{\phantom{0}} = \textcircled{\phantom{0}}$$

20はのこってるよ

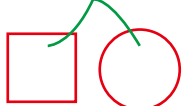
1のくらい

ポイント

10のくらい がかわるよ

## もんだい4 ★★

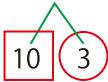
$$13 - 7 = \square$$



※3-7ができないよ

13は10と3にわけよ

1のくらいのかずはいくつかな？



$$\textcircled{10} - 7 = \textcircled{\phantom{0}}$$

$$\textcircled{3} + \textcircled{\phantom{0}} = \textcircled{\phantom{0}}$$

ポイント

10のくらい がかわるよ

1のくらい